

WINTERSPIELE AM SCHWARZEN MEER


Geografische Arbeitsaufträge zu Sotschi und Russland


Sekundarstufe I
Unterrichtsfach:
Geografie

NEUE KENNTNISSE / VERFAHRENSWEISEN ERARBEITEN

- A1** Ein „buntes“ Land – Die föderale Gliederung Russlands
- A2** Sotschi – Informationen zur Olympiastadt
- A3** Russland – Das flächengrößte Land der Erde
- A4** Wie weit ist es bis nach Sotschi?

WEITERFÜHRENDE HINWEISE

 Quellen- und Literaturhinweise

 *Hinweis: Sämtliche hier verwendeten Karten gibt es auch als vergrößerte **Kopiervorlage**.*

Ein „buntes“ Land - die föderale Gliederung Russlands

■ Die Russische Föderation und ihre Struktur

Russland ist der Nachfolgestaat der Sowjetunion („UdSSR“) und föderal aufgebaut. Deshalb ist die korrekte Bezeichnung des Landes eigentlich „Russische Föderation“. Mehr als 170 ethnische Gruppen, unterschiedliche Nationalitäten und verschiedene Muttersprachen haben die Einteilung der Russischen Föderation in 83 sogenannte „Föderationssubjekte“ bestimmt.

Die 83 Föderationssubjekte werden unterschieden in:

- 21 Republiken Diese besitzen eine eigene Verfassung und Gesetzgebung und haben innerhalb der Russischen Föderation den höchsten Grad an Autonomie. Der Republik-Status ist vor allem den größeren nicht-russischen Völkern vorbehalten. Außer Tatarstan und Tschetschenien haben alle Republiken den Föderationsvertrag vom 31. März 1992 mit Russland unterzeichnet.
- 1 Autonome Oblast (russ.: Awtonomnaja Oblast; nur Jüdische Autonome Oblast)
- 4 Autonome Kreise (russ.: Awtonomny Okrug)
- 9 Regionen (russ.: Krai)
- 46 Gebiete (russ.: Oblast)

Hintergründe und weiterführende Infos im Dossier „Russland“ (Kapitel „Geografie“) der Bundeszentrale für politische Bildung (BpB):



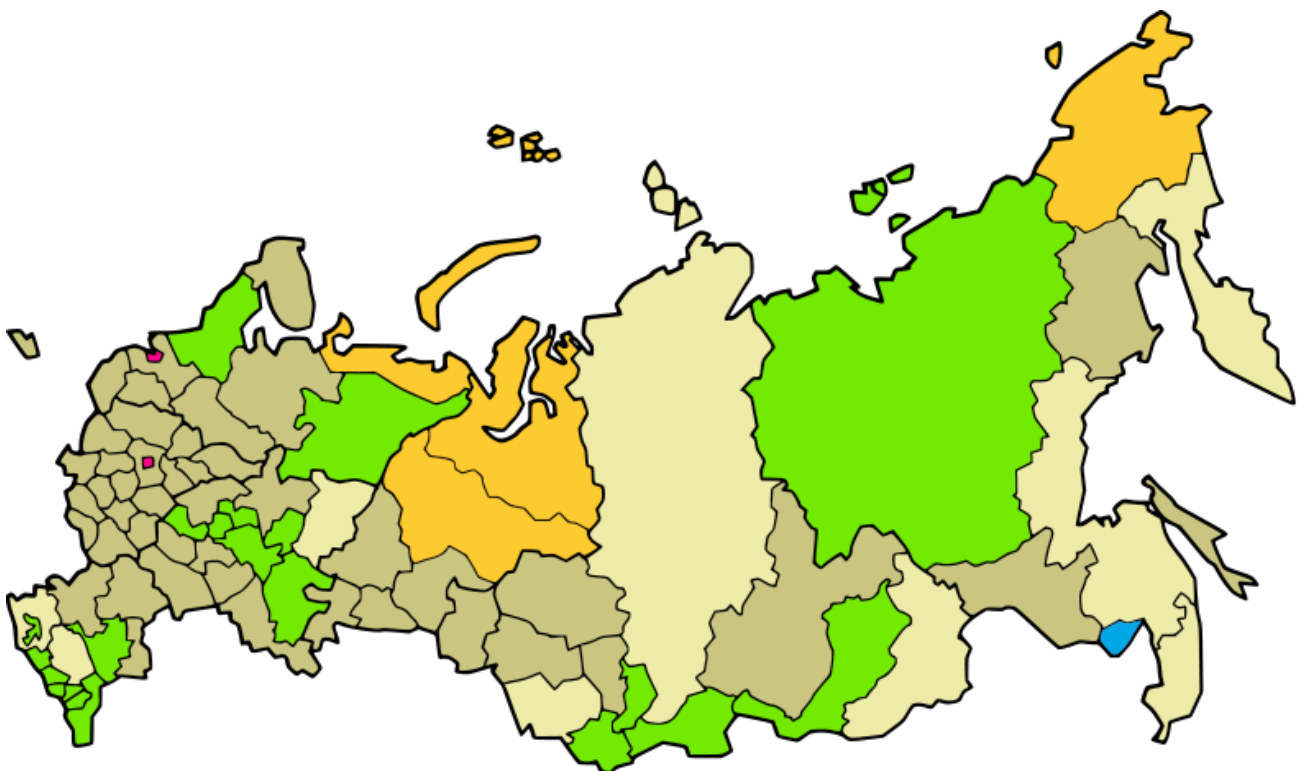
Wusstest du schon:
Föderal kommt aus dem Lateinischen und bedeutet „zu einem Bunde gehörig, bundesmäßig“. Eine Föderation ist deshalb ein Bund, Bündnis, eine Organisation von gleichberechtigten Staaten oder Organisationen.





Arbeitsauftrag:

Informiere dich nun mithilfe von Atlanten, Lexika oder dem *Dossier der Bundeszentrale für politische Bildung über Sotschi!* Erläutere die föderale Gliederung Russlands am Beispiel der Olympiastadt von 2014!



Föderationssubjekte
Russlands

- Republik
- Stadt
- Region
- Gebiet
- Autonomer Kreis
- Autonomer Oblast

Gemäß der Verfassung sind die Föderationssubjekte **gleichberechtigt**, die Staatssprache ist **Russisch**, die einzelnen Republiken können aber zusätzlich eigene Staatssprachen bestimmen.

Auch gilt ein formales **Selbstbestimmungsrecht** der Völker bzw. Nationalitäten in Bezug auf den Staatscharakter einer Republik oder die Staatsbürgerschaft der Republiken und damit auf die Statushierarchien unter den ethnisch definierten Gebieten.

Die Verfassung sieht für die Föderationssubjekte aber **keine Möglichkeit** vor, **aus der Föderation auszutreten**.

■ Föderationskreise

Zusätzlich wurden acht sogenannte „Föderationskreise“ gebildet, die jeweils mehrere Föderationssubjekte umfassen, um die administrative Struktur zu verbessern. Jedem Föderationskreis steht ein vom Präsidenten der Russischen Föderation ernannter persönlicher und bevollmächtigter Vertreter vor, der eine Kontrollfunktion über die Oberhäupter der Föderationssubjekte (zumeist ein Gouverneur oder Präsident) ausübt.



*Föderationskreise
Russlands*

Sotschi - Informationen zur Olympiastadt

■ Geografische Lagebeschreibung

Die russische Stadt Sotschi befindet sich im Föderationskreis Südrussland in der Region Krasnodar am Schwarzen Meer. Sie liegt ca. 30 Kilometer von der Grenze zu Georgien entfernt – der Fluss Psou bildet die natürliche Grenze zur Autonomen Republik Abchasien – an den westlichen Ausläufern des Kaukasus-Gebirges.

*Sotschis Lage
in Russland und
am Schwarzen Meer*



Wichtige Daten:

Lage im Gradnetz der Erde:	43° 35' N und 39° 44' O
Zeitzone:	UTC+4
Gegründet:	1838
Stadt seit:	1917
Fläche:	250 km ²
Einwohner:	343.334 (2010)
Bevölkerungsdichte:	1.373 Einwohner / km ²

Arbeitsaufträge:

1. *Beschreibe die geografische Lage von Sotschi auf dem Globus und in Bezug auf Russland!*
2. *Erläutere die Grundlagen und die Bedeutung der Koordinatenangabe am Beispiel von Sotschi!*
3. *Erkläre kurz, was unter „UTC+4“ zu verstehen ist und vergleiche mit Mitteleuropäischer Zeit (MEZ)!*

- Klima und Vegetation

Temperatur- und Niederschlagsverteilung in Sotschi (Stand: 2013):

Monat:	J	F	M	A	M	J	J	A	S	O	N	D
Temp. max. (°C)	10	10	12	17	21	25	27	28	25	20	15	12
Temp. min. (°C)	4	3	5	9	13	17	20	20	16	13	8	6
Niederschlag (mm)	183	120	115	122	89	99	93	111	133	135	182	202

Anhand dieser Angaben lässt sich Sotschi dem Klima der „Subtropen“ zuordnen.

Die natürliche Vegetation besteht aus Wäldern mit Hartlaubgewächsen. Mehr als 80 % des Territoriums gehören zu einem Nationalpark bzw. Biosphärenreservat.

Arbeitsaufträge:

1. *Charakterisiere kurz das Klima der „Subtropen“ und nenne Gebiete in Europa mit vergleichbaren Klimaverhältnissen!*
2. *Stelle die Jahresmenge der Niederschläge fest! Gib eine Erklärung für die Verteilung über das Jahr (je Monat) und für die gesamte Niederschlagsmenge!*

Schwarzmeerküste
vor Sotschi



■ Bevölkerung

Die Bevölkerung von Sotschi setzt sich aus Angehörigen verschiedener Volksgruppen zusammen:

Russen (67,5%)	Georgier (2,4%)	Weißrussen (0,7%)
Armenier (20,2%)	Tscherkessen (1,2%)	Tataren (0,5%)
Ukrainer (3,7%)	Griechen (1%)	

Dazu kommen Angehörige zahlreicher weiterer Minderheiten, darunter Aserbaidshaner, Abchasen und Deutsche (zumeist Russlanddeutsche).

Von 1959 bis 2010 ist die Bevölkerungszahl Sotschis von 95.234 auf 343.334 Einwohner gestiegen, die Stadt befindet sich somit in einem Zuwanderungsgebiet.



Arbeitsauftrag:

Stelle fest, wo die Herkunftsgebiete der Volksgruppen liegen und suche Erklärungen dafür, warum diese Volksgruppen in Sotschi zu finden sind!

Russland - das flächengrößte Land der Erde



Übersichtskarte Russland

Arbeitsaufträge:



1. Trage die wichtigsten Städte und Gewässer Russlands in der Karte namentlich ein!
 - a) Städte: Moskau, St. Petersburg, Wolgograd, Samara, Kasan, Perm, Jekaterinenburg, Tscheljabinsk
 - b) Flüsse: Wolga, Don, Ural, Ob, Irtysch, Jenissei, Lena, Amur
 - c) Seen: Ladogasee, Onegasee, Aralsee, Baikalsee, Balchaschsee
2. Markiere die folgenden Gebirgszüge Russlands in der Karte: Kaukasus, Ural, Altai, Sajangebirge, Baikargebirge, Werchojansker Gebirge
3. Stelle mit Hilfe des Atlas die Nord-Süd-Ausdehnung bei 80° östl. Länge und die West-Ost-Ausdehnung am nördlichen Polarkreis in Kilometern fest!
4. Vergleiche die Fläche Russlands mit der Bundesrepublik Deutschland! Wie viel größer ist Russland?
5. Wie spät ist es in Petropawlowsk-Kamschatski, wenn es in Moskau 9.00 Uhr ist?

Wie weit ist es bis nach Sotschi?



Übersichtskarte Europa



Arbeitsaufträge:

1. *Versehe jeden europäischen Staat in der Karte mit einer Ziffer und fertige eine Übersicht in deinem Heft mit den Namen an (Beispiel: 1 = Russland, 2 = Frankreich ...)!*
2. *Welche Staaten (von Nordwest nach Südost) haben eine gemeinsame Grenze mit Russland?*

Arbeitsauftrag:



*Jeder Punkt in der Karte steht für eine europäische Hauptstadt.
Versehe jeden von ihnen mit einer Ziffer und fertige eine Übersicht
in deinem Heft mit den Namen an (Beispiel: 1 = Moskau, 2 = Paris ...)!*



Übersichtskarte
Hauptstädte Europas



Arbeitsauftrag:

Markiere Sotschi als roten Punkt und verbinde ihn mit folgenden Hauptstädten (Luftlinie)! Miss die jeweiligen Entfernungen an der Luftlinie in Kilometern und trage sie daneben ein!

Berlin _____ Stockholm _____ Paris _____

Madrid _____ Rom _____ Belgrad _____

Moskau _____

Quellen- und Literaturhinweise



www.pogodaiklimat.ru/climate/37099.htm (Klimadaten zu Sotschi in russischer Sprache)



www.d-maps.com (weiterführendes kostenloses Kartenmaterial)



BUNDESZENTRALE FÜR POLITISCHE BILDUNG: „Dossier: Russland“, 15. Oktober 2010, www.bpb.de/internationales/europa/rusland/48026/geografie